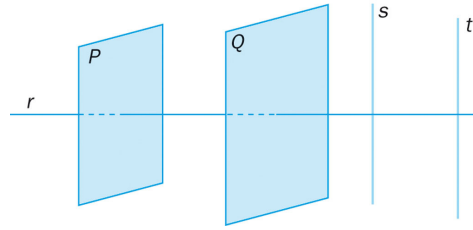


Unidad 12 Cuerpos geométricos

1. Dados los siguientes elementos, señala cuál es la posición relativa de:

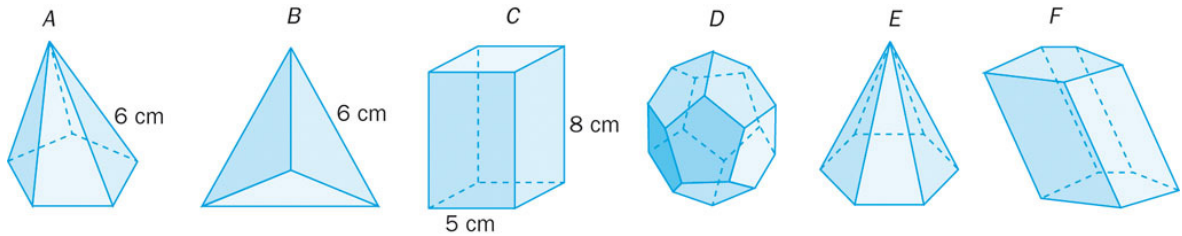
- a) r y s
- b) r y P
- c) P y Q
- d) s y t



2. Pon un ejemplo real de:

- a) Dos rectas paralelas.
- b) Dos planos secantes.
- c) Una recta contenida en un plano.

3. Observa los siguientes poliedros.

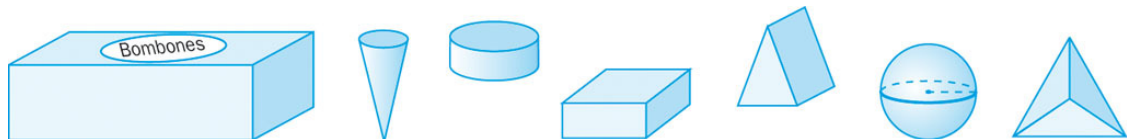


a) Completa la tabla, indicando los nombres de los polígonos que forman sus caras laterales, sus bases, el nombre del poliedro y si es regular o no.

Cuerpo	Caras laterales	Caras de la base	Nombre del poliedro	Regular
A				
B				
C				
D				
E				
F				

b) Comprueba si se cumple la relación de Euler para las figuras A, B y C.

4. En una caja de bombones, todos los dulces tienen formas geométricas. ¿Puedes identificar con qué cuerpo geométrico se corresponde cada uno?



5. Señala los elementos del cilindro:

