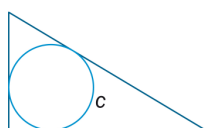
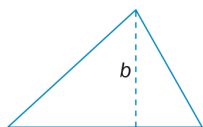
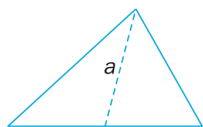
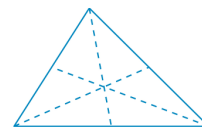
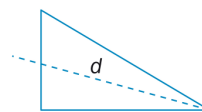


Unidad 12 Figuras planas

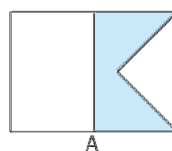
1. Busca en la siguiente sopa de letras los nombres de los elementos relacionados con las rectas y puntos notables de un triángulo que aparecen en los dibujos.



B	I	S	E	C	T	R	I	Z	X
A	A	V	D	E	R	O	I	M	E
R	N	R	A	N	O	S	A	I	N
I	A	I	I	J	M	U	O	M	T
C	I	N	S	C	R	I	T	A	G
E	D	T	O	N	E	H	U	C	S
N	E	P	J	G	U	N	O	A	T
T	M	Y	N	A	R	U	T	L	A
R	M	U	O	A	T	S	L	R	P
O	R	T	O	C	E	N	T	R	O

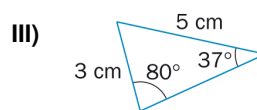
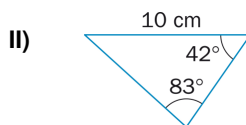
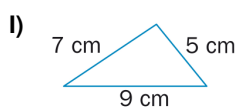
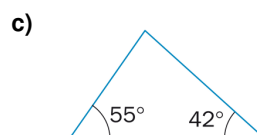
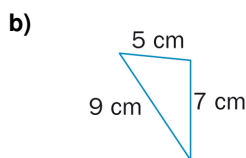
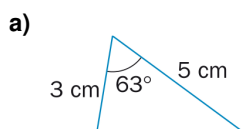


2. Observa las señales siguientes: *A* es una señal de peligro de mercancías, y *B* es una bandera marítima.



- a) Clasifica los polígonos que las forman.
- b) Las zonas sombreadas han formado dos nuevos polígonos en cada una de ellas. Clasifícalos.

3. Une con flechas los triángulos de la primera fila con los de la segunda que sean iguales.



4. Completa las siguientes figuras en las que aparecen sus ejes de simetría.

